


【11】练一练 四


1. 活动教室里有单人椅 26 把, 双人椅 9 把。



2. 妈妈买了 4 盒牛奶和 1 只面包, 共付 11 元。



3. 从大筐里拿出几个梨放到小筐, 两筐梨的个数就一样多了?




4. 已知 $\blacktriangle \times \blacksquare + \bullet = \star$ 。

如果 $\blacktriangle = 3$, $\blacksquare = 8$, $\bullet = 17$, 那么 $\star = (\quad)$ 。

如果 $\blacksquare = 6$, $\bullet = 11$, $\star = 35$, 那么 $\blacktriangle = (\quad)$ 。

如果 $\blacktriangle = 5$, $\blacksquare = 7$, $\star = 44$, 那么 $\bullet = (\quad)$ 。





【9】练一练 三

1. 先说运算顺序,再计算。

$$\begin{aligned} & (24 + 8) \div 4 \\ &= 32 \div 4 \\ &= 8 \end{aligned}$$

$$\begin{aligned} & 36 + 24 \div 3 \\ &= \\ &= \end{aligned}$$

$$\begin{aligned} & 81 \div (36 - 27) \\ &= \end{aligned}$$

$$\begin{aligned} & 80 - 50 \div 5 \\ &= \\ &= \end{aligned}$$

$$\begin{aligned} & 35 \div (63 \div 9) \\ &= \end{aligned}$$


$$\begin{aligned} & 6 \times 10 - 1 \\ &= \\ &= \end{aligned}$$

2. 把 48 个小机器人玩具分装在 1 只大盒子与 3 只小盒子里。

大盒子可以装 24 个。



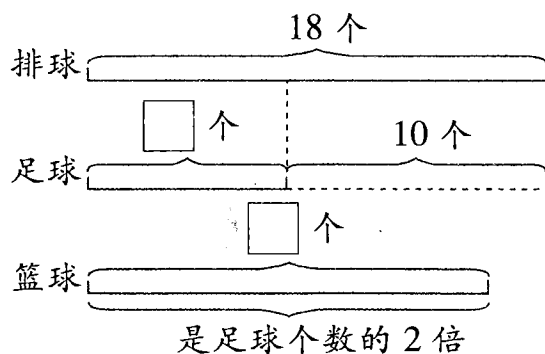
平均每只小盒子可以装多少个玩具？



余下的装在小盒子里。



3. 学校体育室有排球 18 个,足球比排球少 10 个,篮球的个数是足球的 2 倍。篮球有多少个？



4. 看图列式计算。

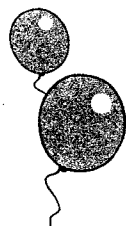
$$13 + \bullet \times 6 = 55$$

$$\bullet = ?$$

$$\blacktriangle + 48 \div 6 = 17$$

$$\blacktriangle = ?$$





【7】有小括号的运算

1. 先说运算顺序,再计算。

$$(60 - 45) \div 5$$

=

=

$$4 \times (5 + 2)$$

=

=

$$(12 + 24) \div 6$$

=

=

$$(80 - 60) \div 5$$

=

=

$$72 \div (12 - 4)$$

=

=

$$10 \times (16 - 8)$$

=

=

2.



36 本



28 本

这两种书平均分给 8 个班,每个班可以分到几本?



3. 仓库里原有 100 桶饮用水,已经运走了 68 桶,余下的用小车运。如果想一次运完,需要几辆这样的小车?

一辆小车最多装 8 桶。



4.



买 3 套这样的服装要多少元?


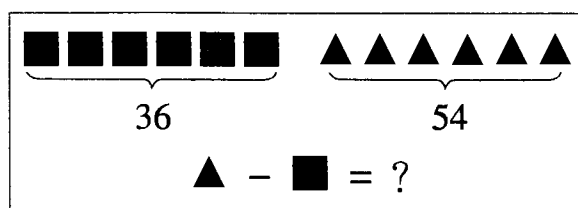
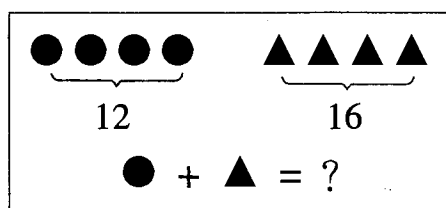



25 元



15 元

5. 看图列式计算。





【10】加减法

1. 阳光小学组织学生看电影,各年级人数如下。

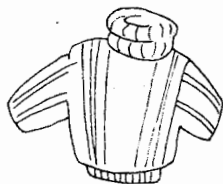
年 级	一	二	三	四	五	六
人数/人	52	88	68	105	97	111

- (1) 六个年级共有多少人去看电影?
- (2) 一、二、三年级有多少人去看电影?
- (3) 五、六年级有多少人去看电影?
- (4) 哪个年级去看电影的人最多?哪个年级最少?相差多少人?

2.



496 元



218 元



199 元



205 元




188 元



48 元

- (1) 买一件风衣和一件毛衣 需要多少元?
- (2) 一件风衣比一件毛衣 贵多少元?
- (3) 你想买些什么? 需要多少元?





【12】辨认方向

1. 看一看,说一说。

学校	-	电影院	-	面包店	北 ↑
咖啡店	-	酸奶店	-	苹果店	
游泳池	-	公园	-	图书馆	

学校在咖啡店的()方。 苹果店在图书馆的()方。
 游泳池在公园的()方。 电影院在公园的()方。
 ()在()的东方。 ()在()的北方。

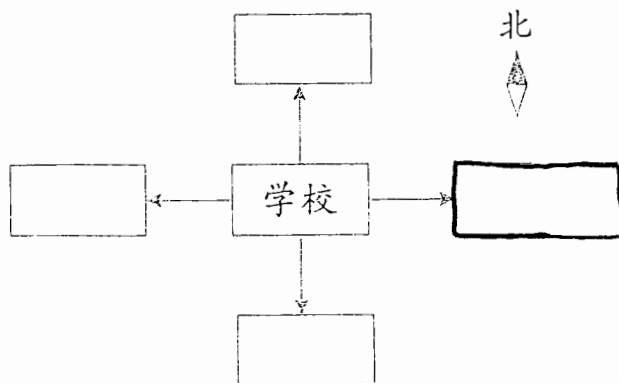
2. 根据所给的信息,在下面的□里写上合适的名称。

公园 在学校的南方。

电影院在 公园 的北方。

学校在医院的东方。

超市在学校的东方。



3. 根据所给的信息,在□里填上合适的字母。

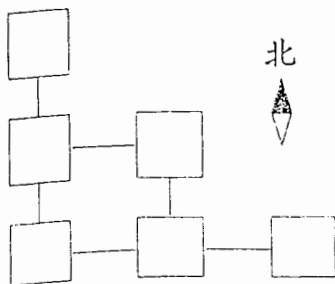
B 在 A 的东边。

E 在 D 的北边。

D 在 A 的北边。

B 在 F 的南边。

C 在 B 的东边。



B 在哪里呢?

